

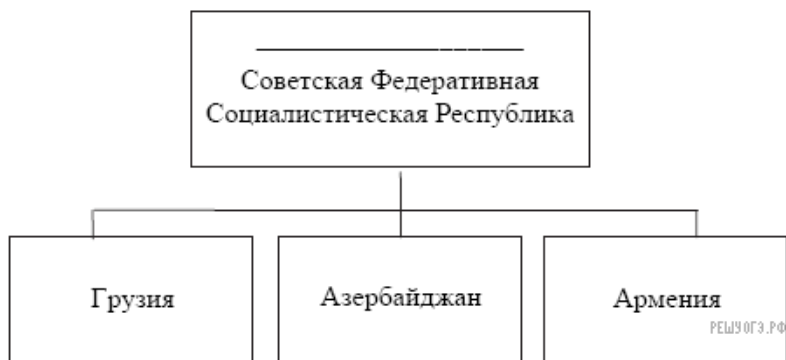
1. Запишите название страны, пропущенное в схеме.



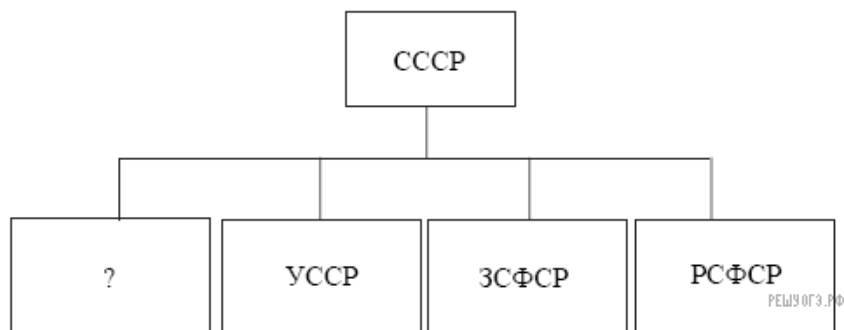
2. Запишите фамилию, пропущенную в схеме.



3. Укажите название союзной республики, пропущенное в схеме.



4. Запишите пропущенную в схеме аббревиатуру — название республики.



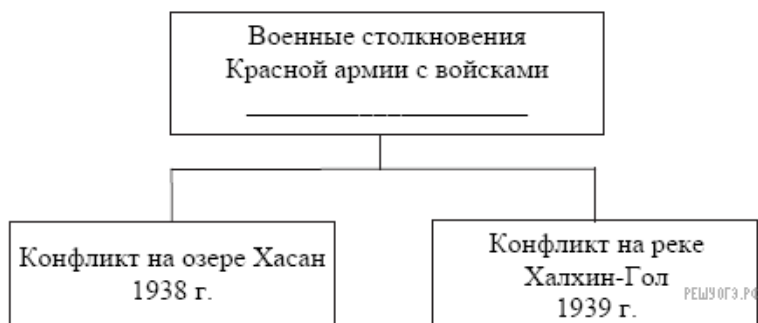
5. Запишите фамилию, пропущенную в схеме.



6. Запишите фамилию, пропущенную в схеме.



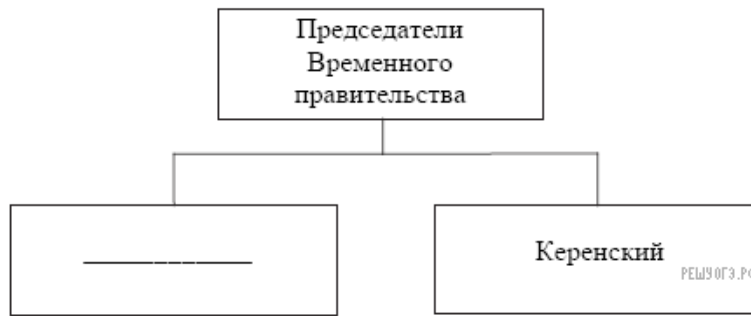
7. Запишите название страны, пропущенное в схеме.



8. Запишите фамилию, пропущенную в схеме.



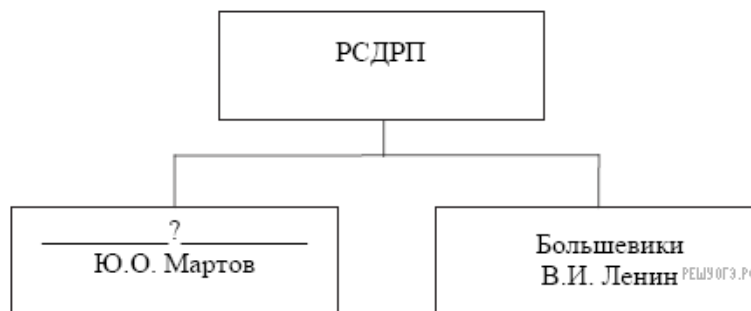
9. Запишите фамилию, пропущенную в схеме.



10. Запишите фамилию, пропущенную в схеме.



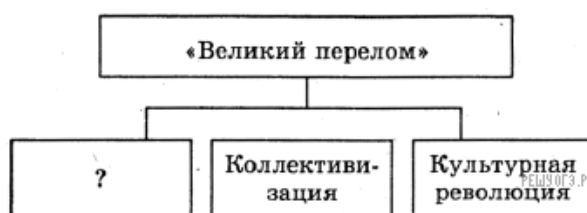
11. Запишите слово, пропущенное в схеме.



12. Запишите фамилию, пропущенную в схеме.



13. Запишите термин, пропущенный в схеме.



14. Запишите название органа власти, пропущенное в схеме.



15. Запишите фамилию, пропущенную в схеме.



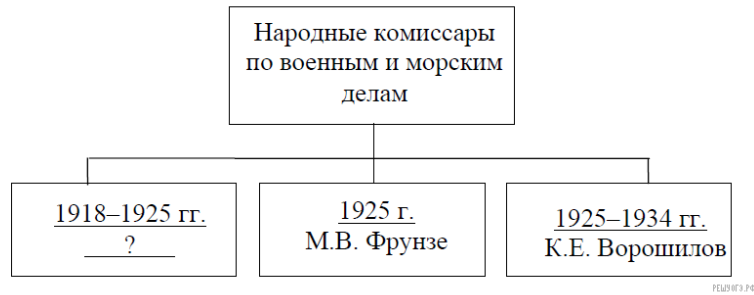
16. Запишите фамилию, пропущенную в схеме.



17. Запишите аббревиатуру, пропущенную в схеме.



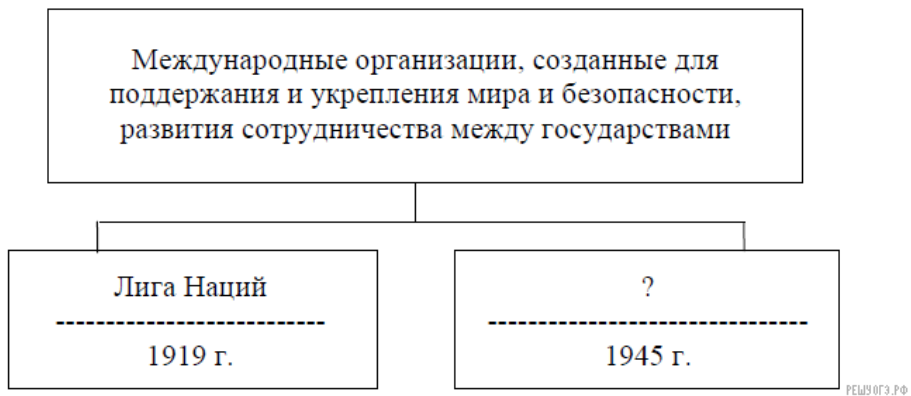
18. Запишите фамилию, пропущенную в схеме.



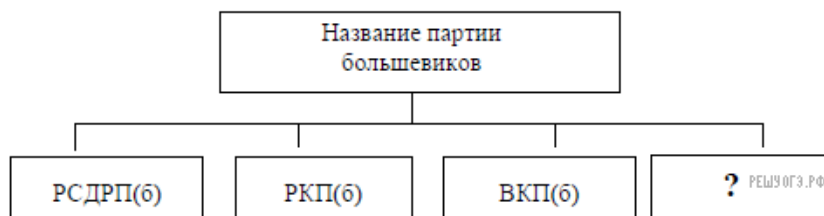
19. Запишите фамилию, пропущенную в схеме.



20. Запишите аббревиатуру, пропущенную в схеме.



21. Запишите аббревиатуру, пропущенную в схеме.



22. Укажите фамилию, пропущенную в схеме.

