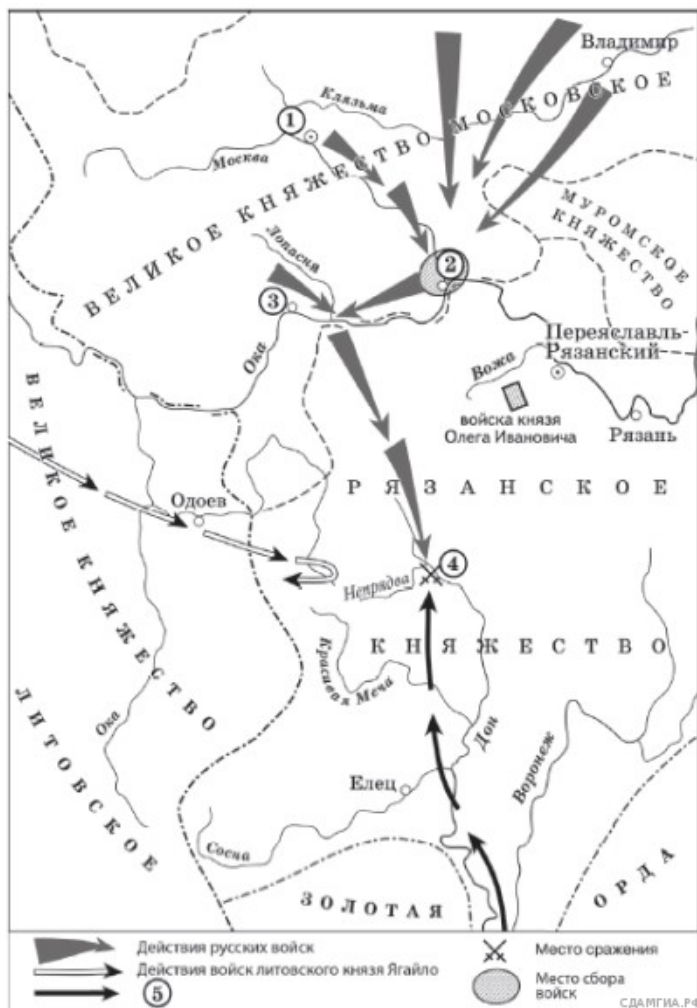


Рассмотрите схему и выполните задание.

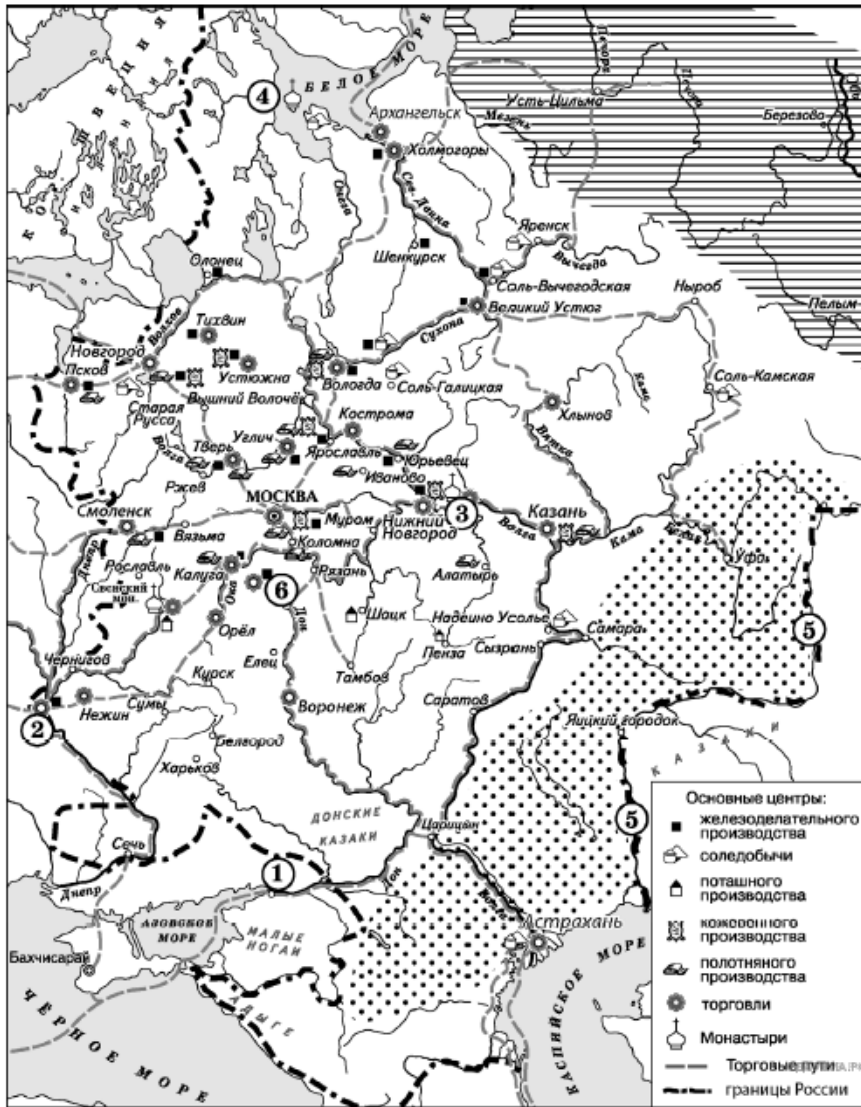


ующего дня было приказано всем воеводам с войсками выехать за город на Девичье поле. Здесь состоялся смотр русских войск перед походом. После совета воевод русские полки 26 августа оставили город и пошли к верховьям Дона».

1. Прочитайте отрывок из сочинения историка и укажите цифру, обозначающую на схеме город, название которого пропущено в данном отрывке.

«Московский князь призвал всех головы свои положить за землю русскую. Местом сбора русских войск был назначен город _____. 25 августа великий князь Московский прибыл в этот город. Его встретили на берегу реки Северки, притоке Москвы-реки. На утро след

Рассмотрите схему и выполните задание.



2. Прочитайте отрывок из сочинения историка и укажите цифру, обозначающую на схеме объект, название которого пропущено в данном отрывке два раза.

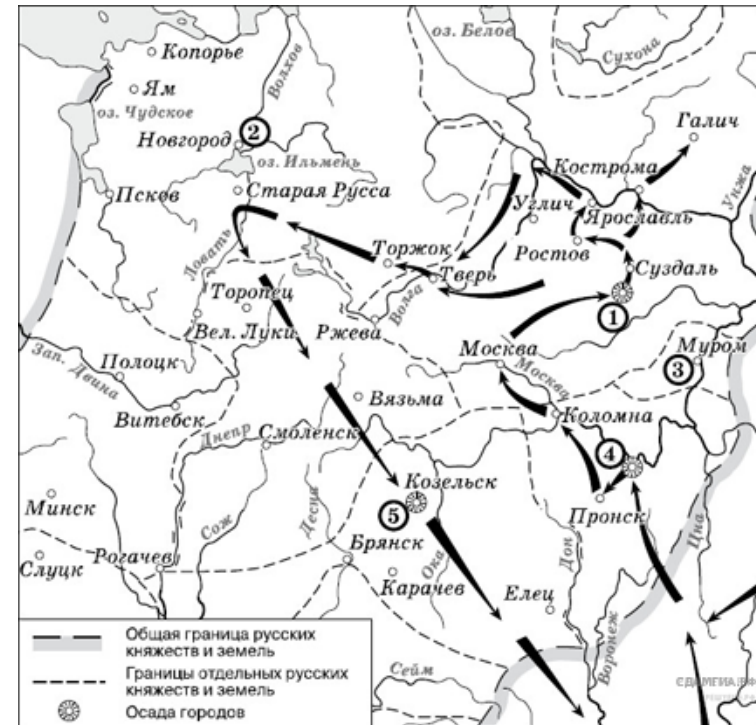
« _____ — одна из немногих рек, изменившая свое название в наше время. До восстания Емельяна Пугачева эта река называлась Яиком. Чтобы стереть всякую память о происхождении, императрица Екатерина II повелела переименовать реку, с которой начался кровопролитный мятеж. Так Яик превратился в _____ ».

Рассмотрите схему и выполните задание.

3. Прочитайте отрывок из сочинения историка и укажите цифру, обозначающую на схеме город, название которого пропущено в данном отрывке.

«Вскоре (будущий предводитель восстания) возглавил поход казацкой бедноты „за зипунами“ на Волгу, реку Яик и Каспийское море. Летом его суда подошли к _____. О свержении царя (будущий предводитель восстания) не говорил, но объявил войну воеводам, дьякам, представителям церкви, считая их предателями царя. Крепость была одной из лучших в Европе. Иностранцы говорили, что устоит она против любой армии. Каменный кремль: десять башен, за ними Белый город с каменными стенами до десяти сажен в высоту, за ним земляной вал с деревянной стеной на нем. У вала — глубокий ров. На трех крепостных стенах стояло пятьсот пушек! Но неожиданно жители города открыли городские ворота и впустили казаков».

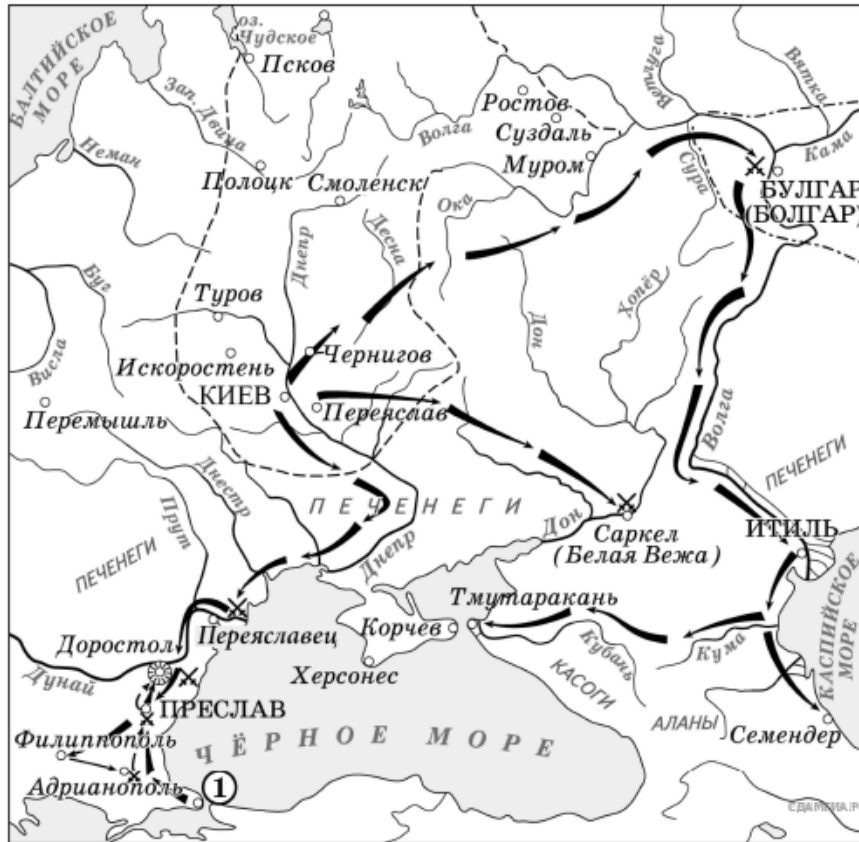
Рассмотрите схему и выполните задание.



4. Прочитайте отрывок из сочинения историка и укажите цифру, обозначающую на схеме город, название которого пропущено в данном отрывке.

«Подойдя к городу, войска монголов потребовали его сдачи. Жители _____ реши на совете: „Наш князь младенец, но мы, как правоверные, должны за него умереть, чтобы в

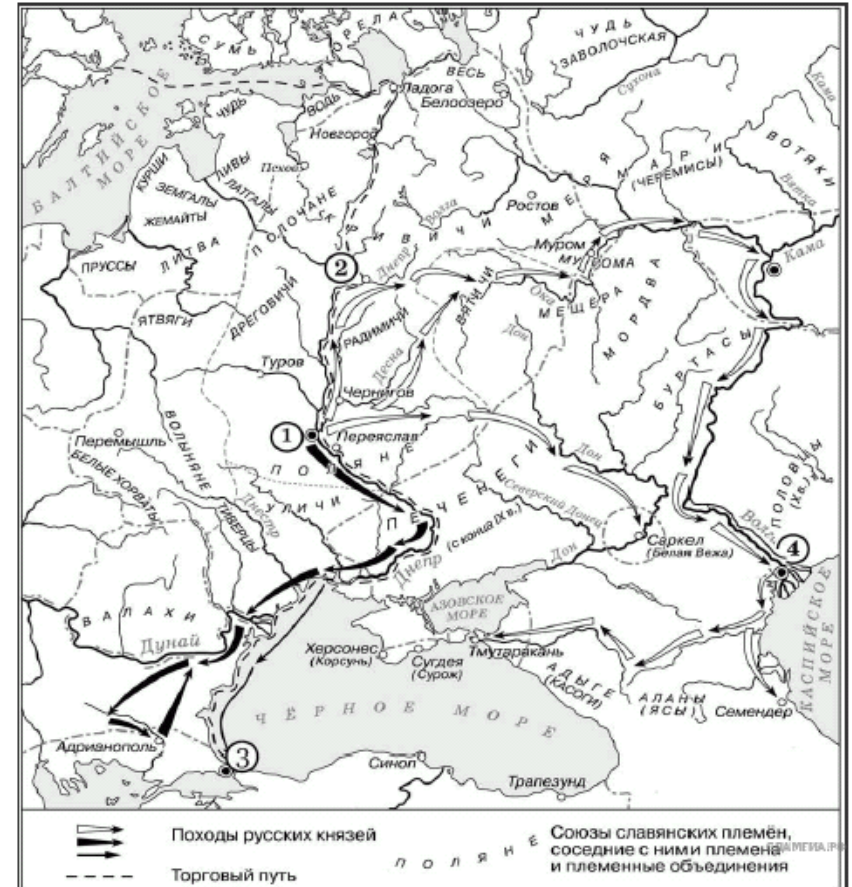
Рассмотрите схему и выполните задание.



6. Прочитайте отрывок из летописи и укажите имя князя, чьи походы обозначены на схеме и чье имя пропущено в данном отрывке.

«Когда _____ вырос и возмужал, стал он собирать много воинов храбрых, и быстрым был, словно пардус, и много воевал. В походах же не возил за собою ни возов, ни котлов, не варил мяса, но, тонко нарезав конину, или зверину, или говядину и зажарив на углях, так ел; не имел он шатра, но спал, постилая потник с седлом в головах, — такими же были и все остальные его воины. И посылал в иные земли [посланников, как правило, перед объявлением войны] со словами: „Иду на вы!“».

Рассмотрите схему и выполните задание.



7. Прочитайте отрывок из работы историка и укажите цифру, которой на схеме обозначен город, чье название пропущено в данном отрывке.

«Конфликт разразился при вокняжении князя Святослава Игоревича. Ход войны может быть реконструирован в различных вариантах. Возможно, состоялся один большой поход, возглавляемый Святославом. Либо имели место два похода. Первый — направлен против Саркела (хазарская застава на Дону), второй — против территории Хазарии в Прикаспии. Он мог проходить уже без непосредственного участия Святослава, так как согласно русской летописи князь в это время находился в Киеве. В ходе военных действий русы разбили хазарское войско во главе с каганом, захватили Саркел, который с этого времени стал русским городом Белая Вежа, подчинили

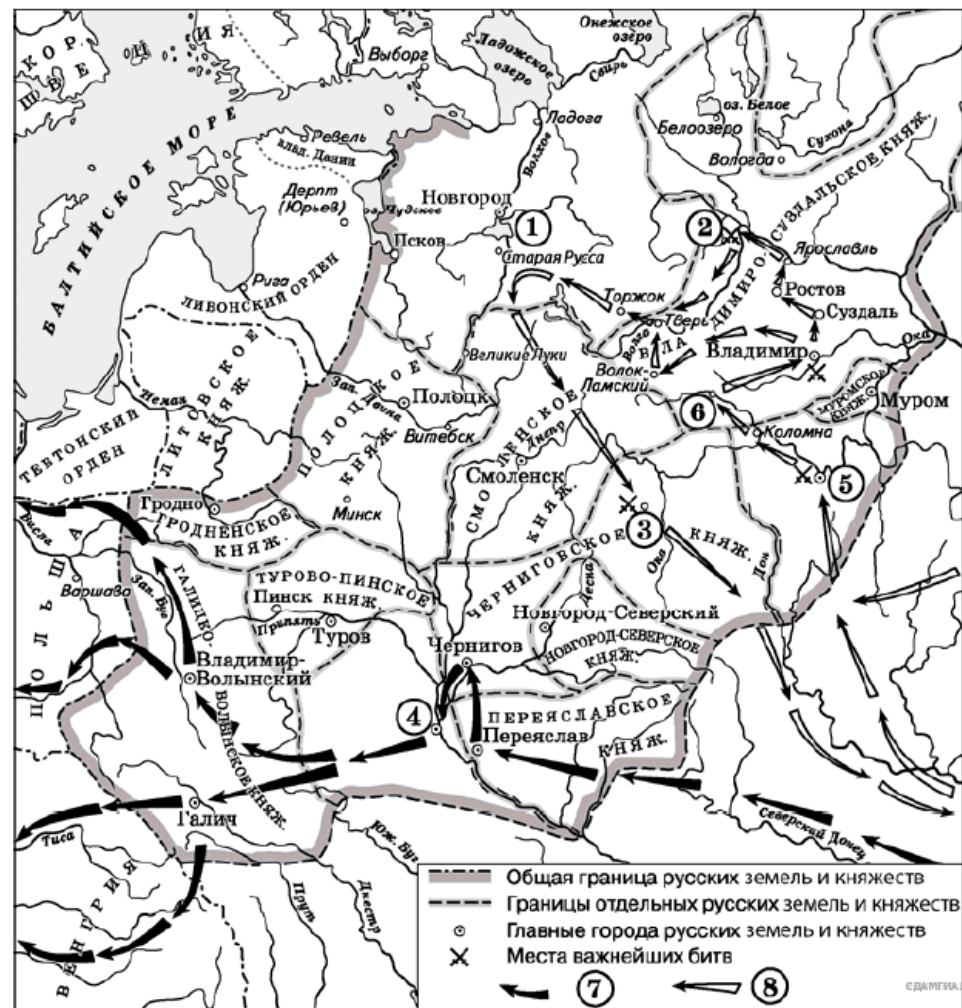
ясов и касогов в Прикубанье. Далее, как следует из сообщения арабского автора Ибн Хаукаля, русы разграбили обе части хазарской столицы _____».

Рассмотрите схему и выполните задание.

8. Прочитайте отрывок из работы историка и укажите цифру, которой на схеме обозначен город, под которым прошла битва, название которой пропущено в данном отрывке.

«В результате _____ битвы армия короля XII была настолько обескровлена, что уже не могла вести активных наступательных действий. Военное могущество Швеции было подорвано, и в Северной войне произошел перелом в пользу России. На встрече с саксонским курфюрстом Августом II в Торуня был вновь заключен военный союз Саксонии с Россией. Датский король также вновь выступил против Швеции, причем теперь, благодаря приобретенному авторитету, России это не стоило ни денежных субсидий, ни посылки воинского контингента».

Рассмотрите схему и выполните задание.



9. Прочитайте отрывок из работы историка и укажите цифру, которой на схеме обозначен город, название которого пропущено в данном отрывке.

«Во время Монгольского нашествия на Русь, бывшего частью Западного похода монголов, [данное] княжество оказалось первым из русских княжеств на пути завоевателей. Осенью орда Батые вторглась в [его] пределы. Перебив посланное князем посольство и разгромив его дружин

Рассмотрите схему и выполните задание.



11. Прочитайте отрывок из работы историка и укажите цифру, которой на схеме обозначена территория, чье название пропущено в данном отрывке. Ответ запишите арабской цифрой (например, 1, 2, 3 и так далее)

«Все решения Венского Конгресса были собраны в Заключительном акте Венского Конгресса. Конгресс санкционировал включение в состав нового королевства Нидерландов территории Австрийских Нидерландов (современная Бельгия), однако все остальные владения Австрии верн

улись под контроль Габсбургов, в том числе Ломбардия, Венецианская область, Тоскана, Парма и Тироль... Часть созданного Наполеоном _____ вошла в состав Российской империи под названием [...], а российский император Александр I становился и [...] царем.»

Рассмотрите схему и выполните задание.



12. Прочитайте отрывок из работы историка и укажите название государства, с которым велись боевые действия, показанные на схеме, чье название пропущено в данном отрывке.

«По итогам войны Крым был объявлен независимым от _____. Россия получила Большую и Малую Кабарду, Азов, Керчь и Еникале, Кинбурн с округой и прилегавшей к нему степью между Днепром и Бугом. Русские корабли могли свободно ходить по [...] водам; русские подданные получили право пользоваться всеми теми выгодами, которыми пользовались в пределах _____ союзные народы; _____ признала титул русских императоров и обязалась называть их падишахами, даровала амнистию и свободу вероисповедания балканским христианам, предоставила представителям России принимать на себя роль защитников славян и ходатайствовать за них».

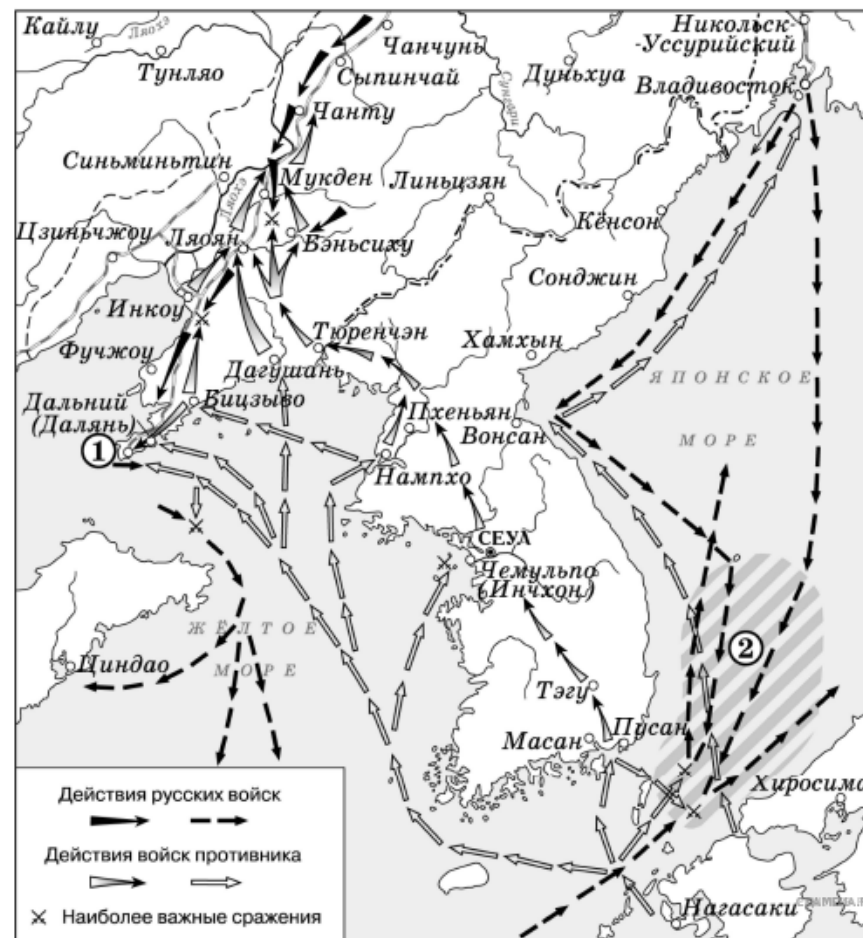
Рассмотрите схему и выполните задание.



13. Прочитайте отрывок из работы историка и укажите цифру, под которой на схеме обозначено сражение, название которого пропущено в данном отрывке.

«_____ является одним из самых кровопролитных сражений данного века и наиболее кровопролитным из всех однодневных, бывших до него. По самым скромным оценкам совокупных потерь, каждый час на поле погибало или получало ранения около шести тысяч человек, французская армия потеряла около 25% своего состава, русская — около 30%. Со стороны французов было сделано шестьдесят тысяч пушечных выстрелов, с русской стороны — пятьдесят тысяч. Наполеон назвал _____ своим самым великим сражением, хотя его результаты более чем скромны для привыкшего к победам великого полководца».

Рассмотрите схему и выполните задание.



14. Прочитайте отрывок из работы историка и укажите цифру, под которой на схеме обозначено сражение, название которого пропущено в данном отрывке.

«_____ произошло в мае. В ходе него российская Вторая эскадра флота Тихого океана под командованием вице-адмирала Рожественского потерпела сокрушительное поражение от Императорского флота под командованием адмирала Хэйхатиро Того — последнее, решающее морское сражение войны, в ходе которой русская эскадра была полностью разгромлена. Большая часть кораблей была потоплена противником или затоплена собственными экипажами, часть кап

итулировала, некоторые интернировались в нейтральных портах, и лишь четверем удалось дойти до русских портов».

Рассмотрите схему и выполните задание.

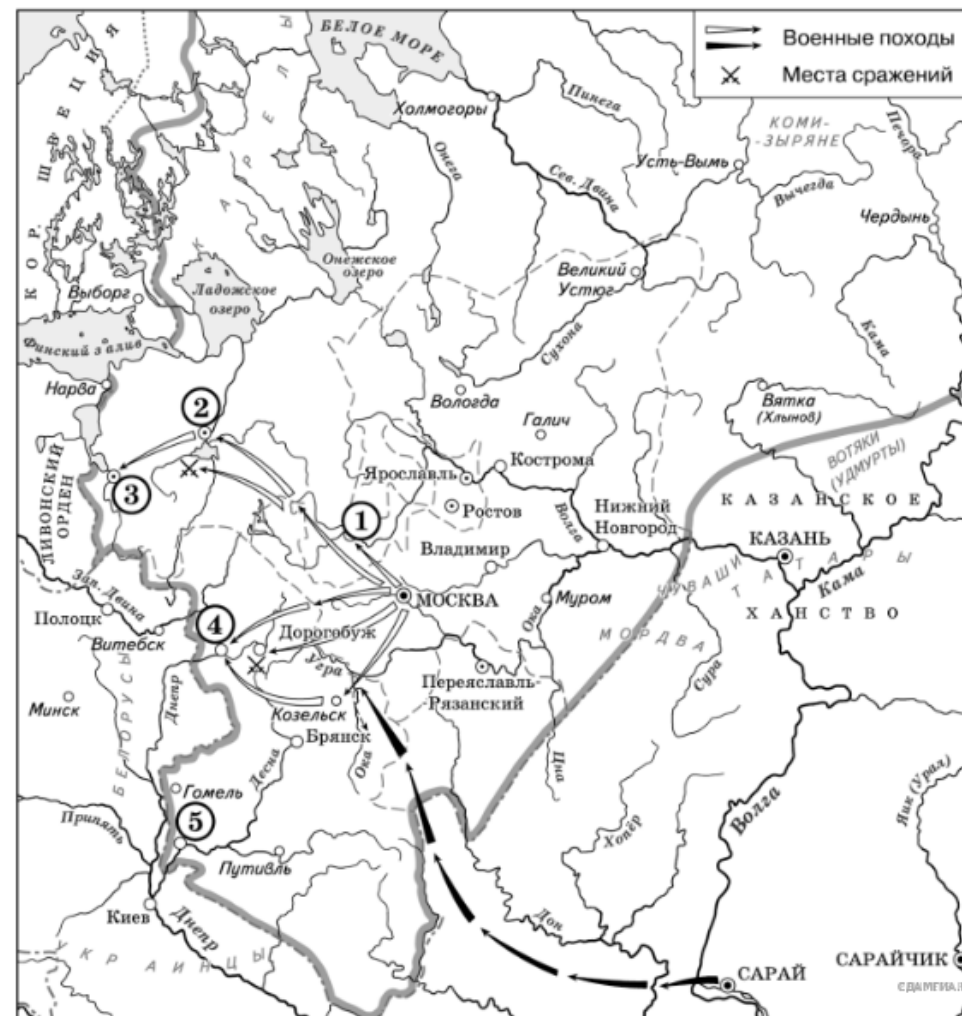


15. Прочитайте отрывок из работы историка и укажите цифру, под которой на схеме обозначена территория проживания народа, название которого пропущено в данном отрывке.

«По свидетельствам источников _____ были прекрасными степными наездниками и имели свой военный строй. Занятиями _____ были кочевое скотоводство (разведение рогат

ого скота, коней, овец, верблюдов) и ремесло. Тем не менее, они имели и постоянные летние и зимние стойбища. Поначалу _____ вели так называемое таборное кочевание, впоследствии (с конца XI века) сменившееся другим типом кочевья, когда за ордами, куренями и аулами закреплялись определенные участки земли под пастбища. Природа степей немало способствовала развитию и процветанию кочевого скотоводства. С другой стороны, положение кочевников было довольно трудным в холодные зимы. Золото и серебро они добывали грабежом и торговлей. Есть версия, что городов _____ не строили, хотя в их землях упоминаются города Шарукань, Сугров, Чешуев, заложенные именно _____ . Кроме того, Шарукань был столицей западных _____ ».

Рассмотрите схему и выполните задание.

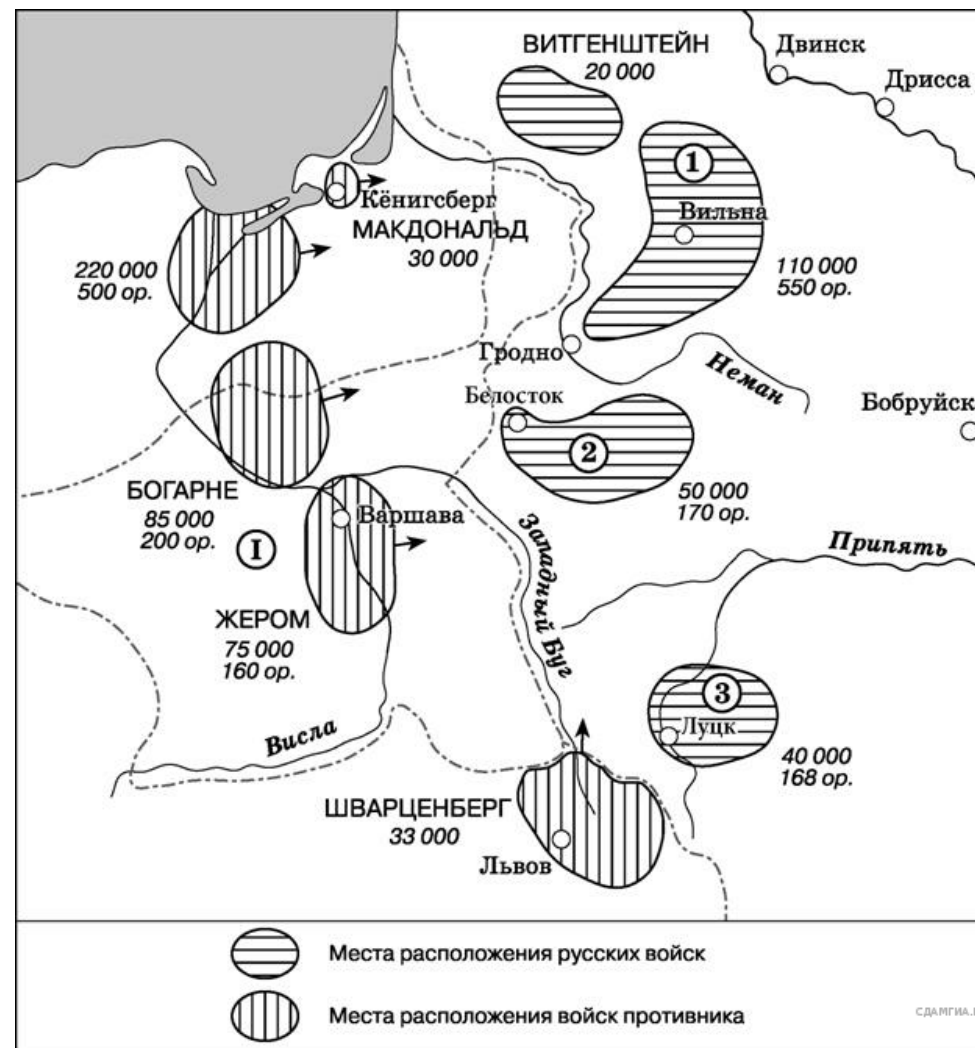


16. Прочитайте отрывок из работы историка и укажите цифру, под которой на схеме обозначен город, название которого пропущено в данном отрывке.

«Чтобы облегчить свою участь, жители _____ 5-го декабря вступили в переговоры с московским князем. Однако Иван III на попытку _____ договориться с ним ответил: „Знай же, что в _____ не быть ни вечевому колоколу, ни посаднику, а будет одна власть государев

а, как в стране московской». Тем временем город был расколот надвое: одни жители были готовы защищать его от москвичей, а другие — отказывались участвовать в отражении атак московских воинов. Поняв, что московский государь настроен решительно, население города в конце концов сдалось. 4-го января Иван III потребовал, чтобы ему отдали половину владycznych и монастырских волостей и все новоторжские волости. 6-го января бояре приняли эти условия, сохранив таким образом свои вотчины. 13-го января было объявлено о подчинении _____ Великому князю, а 15-го января московские войска во главе с Иваном III вступили в город».

Рассмотрите схему и выполните задание.

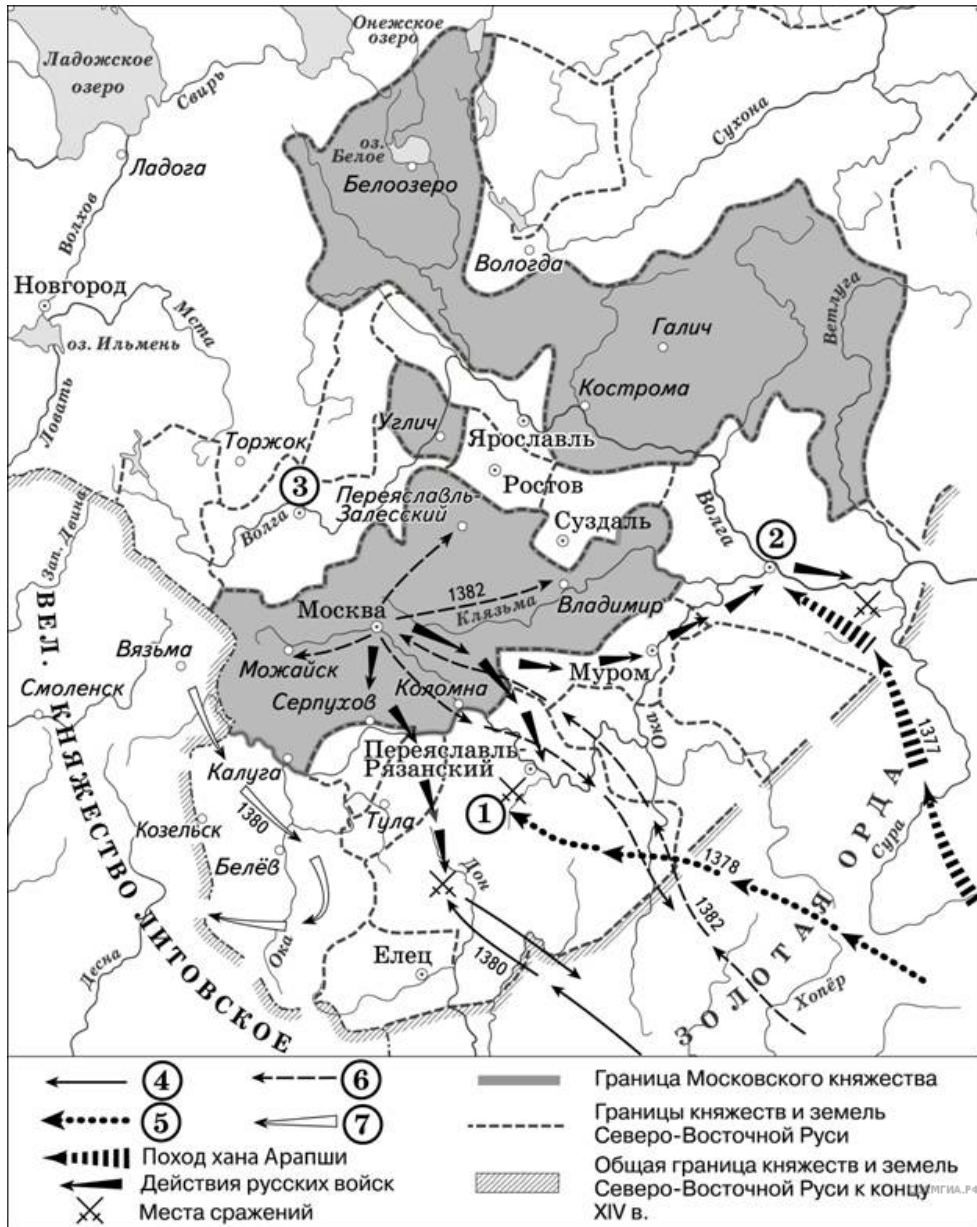


17. Прочитайте отрывок из работы историка и укажите цифру, под которой на схеме обозначена армия, название которой пропущено в данном отрывке.

«_____ армия военного министра России генерала от инфантерии М. Б. Барклая де Толли (около 120 тыс. чел. при 590 орудиях) включала в свой состав шесть пехотных корпусов (1-й, 2-й,

3-й, 4-й, 5-й и 6-й), три резервных кавалерийских корпуса (1-й, 2-й и 3-й), Летучий казачий корпус атамана М. И. Платова, четыре пионерные (инженерные) и две понтонные роты. Должность начальника Главного штаба с 30-го июня занимал генерал-майор А. П. Ермолов.»

Рассмотрите схему и выполните задание.



18. Прочитайте отрывок из работы историка и укажите цифру, под которой на схеме обозначен поход военачальника, чье имя пропущено в данном отрывке.

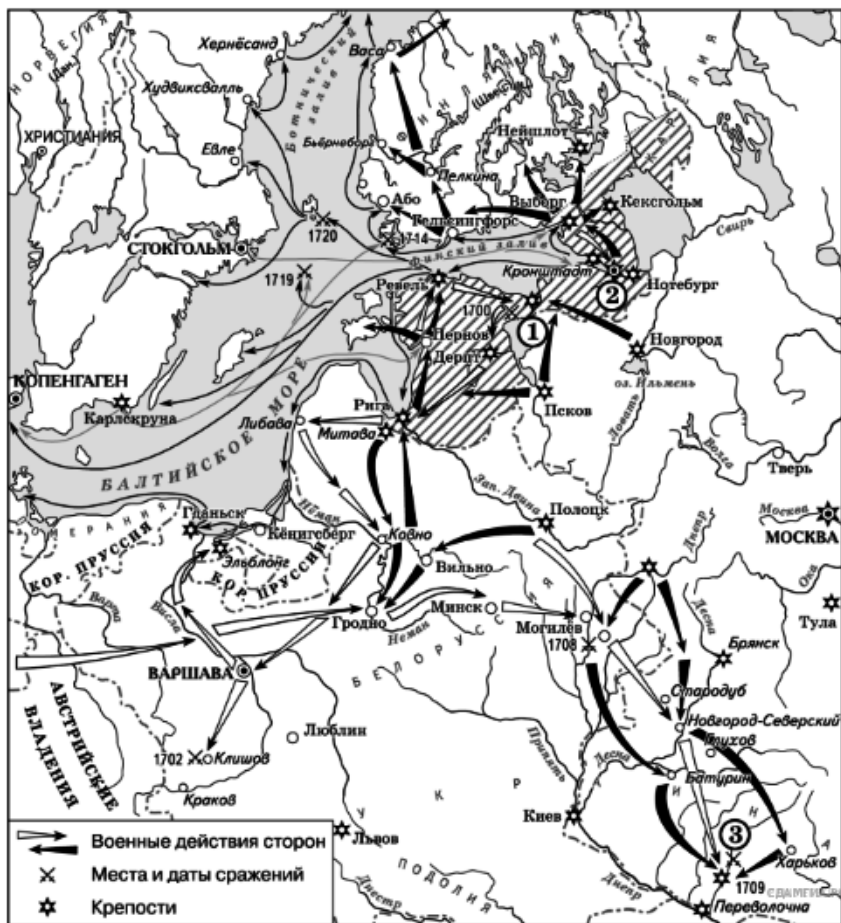
«_____ учел уроки Куликовской битвы и принял все меры для того, чтобы его нападение было неожиданным. Это ему удалось. Дмитрий Иоаннович покинул столицу и уехал в Кострому собирать войска, вскоре из города уехал и митрополит Киприан. 23-го августа ордынское войско подошло к Москве, три дня продолжался безуспешный штурм города. Лишь с помощью обмана хан сумел занять и разграбить столицу Московского княжества. После захвата города _____ стал рассылать по Московской земле свои отряды. Когда до него дошли известия, что один из отрядов был уничтожен войсками князя Владимира Храброго под Волоком Ламским, а в Костроме с войсками стоит Дмитрий Иоаннович, то хан поспешил увести свои войска в Орду, разграбив по пути Рязанскую землю. После этого набега среди князей, ранее признававших политическое верховенство Москвы, начались колебания. Олег Рязанский указал ордынскому войску тайные броды на Оке. Сыновья нижегородского князя Дмитрия Константиновича — князя Василий и Семен — встречали ордынское войско на границе владений отца, затем вместе с ним под стенами Московского Кремля, целуя крест, убеждали москвичей поверить _____».

Рассмотрите схему и выполните задание.

19. Прочитайте отрывок из работы историка и укажите цифру, под которой на схеме обозначен город, чья осада описана в данном отрывке.

«Переправившись через Великую, 18-го августа передовые отряды войска Речи Посполитой подошли к городу с юга. Увидев малочисленность авангарда противника, русские воеводы приняли вылазку и отбросили противника на несколько верст. В течение недели Баторий вел разведку русских укреплений, и только 26-го августа приказал основным силам своей армии подступить к городу. Однако солдаты вскоре попали под огонь русских пушек и отступили к реке Череха. Здесь Баторий устроил укрепленный лагерь, стал рыть траншеи и ставить туры, чтобы приблизиться к стенам крепости. Свой шатер Баторий приказал поставить недалеко от стен _____ на московской дороге у церкви Николы Чудотворца. Ночью русская крепостная артиллерия открыла огонь по лагерю, нанеся польско-литовскому войску значительный ущерб. Для устрашения жителей города был проведен парад — смотр войск, принимали его польский король Стефан Баторий и главнокомандующий армии, коронный гетман Ян Замойский. Отдельными отрядами осаждавших были заняты пригородные монастыри: Снетогорский, Любятовский, Ивановский, Мирожский и другие».

Рассмотрите схему и выполните задание.

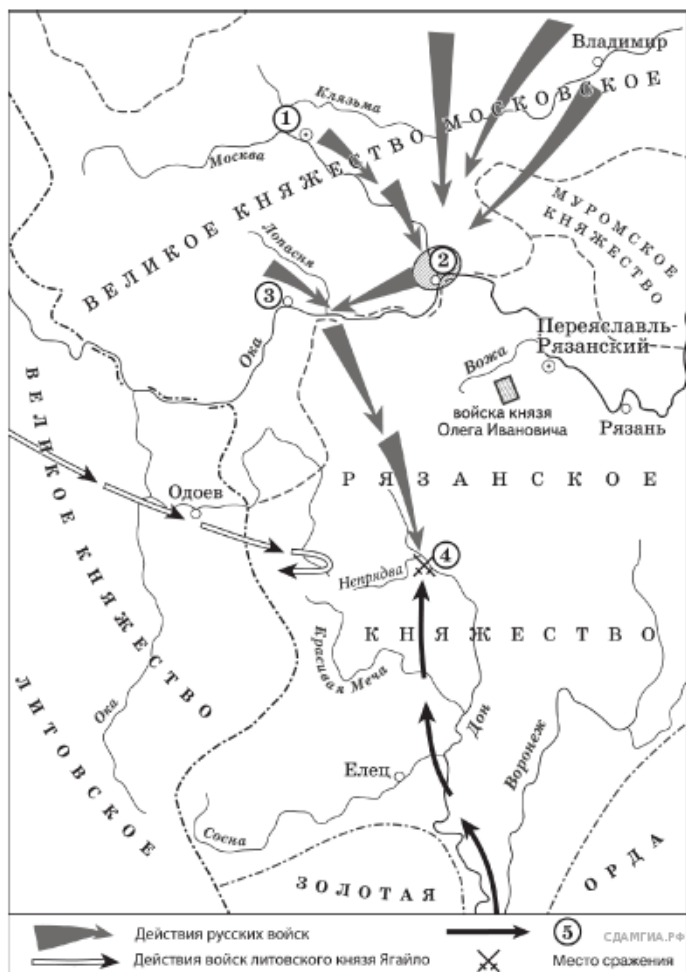


20. Прочитайте отрывок из работы историка и укажите цифру, под которой на схеме обозначен город, чье название пропущено в тексте.

«Русская армия потерпела тяжелое поражение: было потеряно значительное количество артиллерии, понесены тяжелые людские потери, сильно пострадал командный состав. В Европе русскую армию на несколько лет перестали воспринимать как серьезную силу, а Карл XII получил славу великого полководца. С другой стороны, эта тактическая победа посеяла семя будущего поражения Швеции — Карл XII поверил, что разбил русских надолго и сильно недооценивал их

вплоть до Полтавы. Петр I, напротив, после поражения под _____ осознал необходимость военных реформ и сделал упор на подготовку национальных командных кадров».

Рассмотрите схему и выполните задание.



состоялся смотр русских войск перед походом. После совета воевод русские полки 26-го августа оставили город и пошли к верховьям Дона».

21. Прочитайте отрывок из сочинения историка и укажите цифру, обозначающую на схеме город, название которого пропущено в данном отрывке.

«Московский князь призвал всех головы свои положить за землю Русскую. Местом сбора русских войск был назначен город _____. 25-го августа великий князь московский прибыл в этот город. Его встретили на берегу реки Северки, притоке Москвы-реки. На утро следующего дня было приказано всем воеводам с войсками выехать за город на Девичье поле. Здесь

Рассмотрите схему и выполните задание.



22. Прочитайте отрывок из сочинения историка и укажите цифру, обозначающую на схеме город, название которого пропущено в данном отрывке.

«Разорив Рязань, завоеватели двинулись во Владимиро-Суздальскую землю. Шли они круглым путем, по течению рек. У Коломны вражеская рать встретилась со сторожевым отрядом, высланным владимирским князем Юрием Всеволодовичем, и с рязанским полком во главе с князем Романом Ингваревичем. В ожесточенном бою пало много воинов, был убит и князь Роман.

Далее на пути завоевателей лежала _____, обороной которой руководил воевода Филипп Нянка. Соппротивление жителей было сломлено, город и окрестные села сожжены неприятелем, жители перебиты «от старца и до младенца», а юный князь Владимир Юрьевич взят в плен».

Рассмотрите схему и выполните задание.



23. Прочитайте отрывок из сочинения историка и укажите цифру, обозначающую на схеме город, название которого пропущено в данном отрывке.

«10-го февраля в маленькой деревушке Туркманчай был подписан составленный А. С. Грибоевым мирный трактат. Шах вынужден был не только отказаться от реваншистских притязаний на Грузию и Северный Азербайджан, но и уступить России территорию Восточной Армении с городами _____ и Нахичевань.

Туркманчайский мир укрепил позиции России за Кавказским хребтом и усилил ее влияние в районах Среднего Востока, тяготевших к Каспийскому морю».

«150-тысячное войско правителя осадило _____, которая представляла в тот период первоклассную военную крепость. Чтобы облегчить задачу взятия города, в верховьях Волги (в районе Углича) была сооружена деревянная крепость, которую в разобранном виде сплавили вниз по Волге до впадения в нее реки Свяги. Здесь, в тридцати километрах от _____, был возведен город Свижск, ставший опорным пунктом в борьбе за этот город».

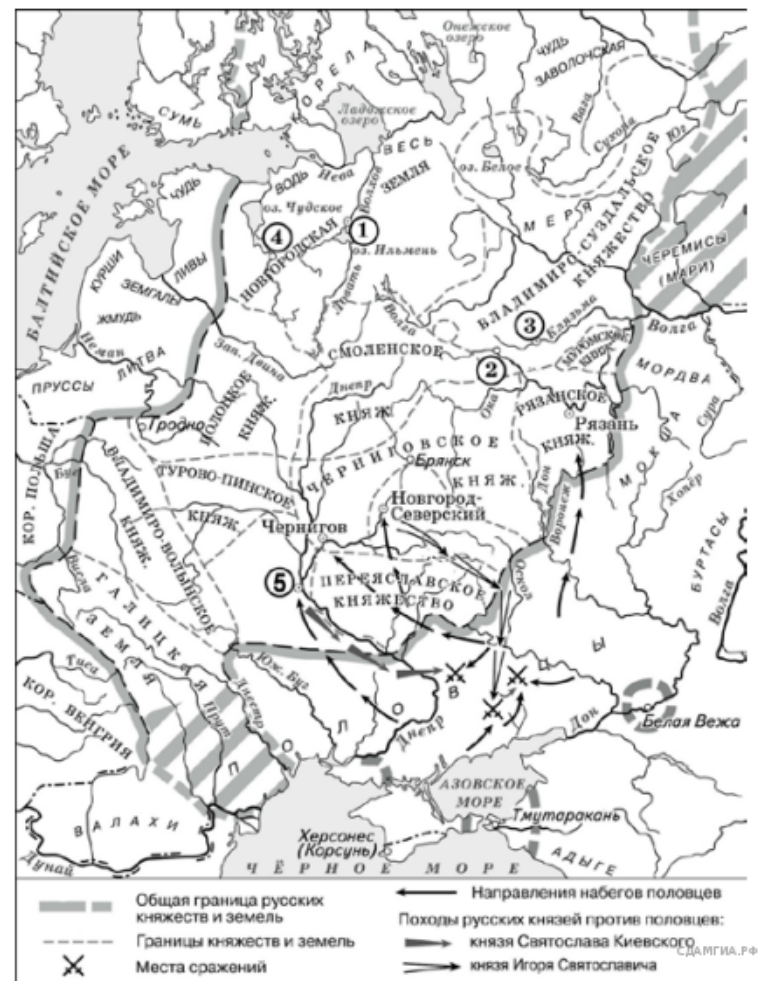
Рассмотрите схему и выполните задание.



27. Прочитайте отрывок из сочинения историка и укажите цифру, обозначающую на схеме город, где произошли события, описываемые в данном отрывке.

«В конце XIX века при строительстве Транссибирской магистрали на Иртыше был возведен железнодорожный мост. Мост создан по проекту выдающегося русского инженера-строителя Н. А. Беллюбского. На строительство моста правительство ассигновало три миллиона рублей. Мост построен с шестью пролетами по сто метров каждый, а два береговых пролета протяженностью по двадцать два метра. Основание мостовых быков — на кессонах, фермы изготовлены из сварочного железа Боткинского завода. Работы по постройке моста производились контрагентом Березиным под наблюдением инженеров Залусского и Ольшевского».

Рассмотрите схему и выполните задание.



28. Прочитайте отрывок из сочинения историка и укажите цифру, обозначающую на схеме город, название которого пропущено в данном отрывке.

«Настоящее окняжение этих областей началось с Владимира Мономаха, который еще мальчиком должен был проехать „сквозе Вятиче“, чтобы добраться до далекого Ростова. Те долгие годы, когда Мономах, будучи переяславским князем, владел и Ростовским уделом, сказались на жизни Северо-Востока. Здесь возникли такие города, как _____ на Клязьме, Переяславль, наз

шведам закупать и вывозить беспошлинно из _____ и Ревеля на 50 тыс. рублей хлеба ежегодно».

30. Прочитайте отрывок из сочинения историка и укажите цифру, обозначающую на схеме город, название которого пропущено в данном отрывке.

«Русская армия переправилась через Дунай. 9(20) июня были одержаны две победы. Затем русские войска подошли к Шумле. Армия Румянцева умела воспользовалась затруднительным положением турков. Прибывшим в лагерь в _____ турецким уполномоченным он заявил, что согласен вести переговоры. 10(21) июня Румянцевым в ставке при мирный договор был подписан».



Рассмотрите схему и выполните задания 8–10.



31. Прочитайте отрывок из сочинения историка и укажите цифру, обозначающую в легенде схемы поход, о котором идет речь в данном отрывке.

«Захватив множество городов Северо-Восточной Руси, полчища степняков двинулись вверх по Волге. Вражеским войском была захвачена Тверь. После длительной осады — и Торжок, который был мощной крепостью на пути из Владимиро-Суздальского княжества в Новгородскую землю. В городе не было князя и дружины, оборону возглавили выборные посадники, а отражали штурмы сами жители города. Гарнизон Торжка ожидал помощи из Новгорода, но она не пришла. Две недели монголы вели осаду с использованием камнеметных машин, и 5 марта город пал. Согласно летописям население было уничтожено, а уцелевших жителей завоеватели преследовали, до «Игнача-креста». Несмотря на то что до Новгорода оставалось всего 100 верст, тумены кочевников развернулись и двинулись на юг».

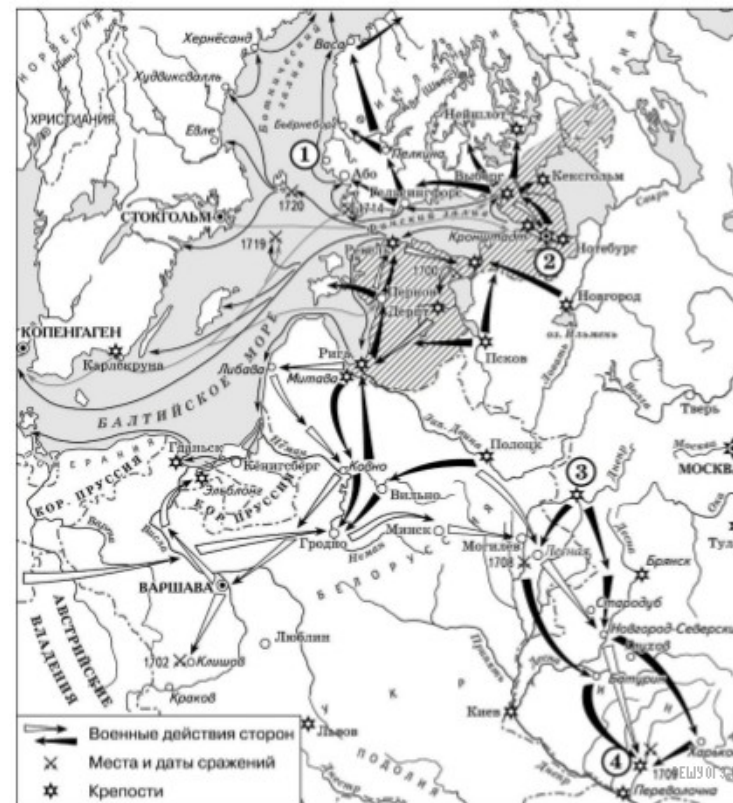
Рассмотрите схему и выполните задания 8–10.



32. Прочитайте отрывок из сочинения историка и укажите цифру, обозначающую место, где произошли описываемые в отрывке события.

«Рано утром Руднев получил ультиматум японского адмирала Уриу. Командующий предлагал покинуть порт и сдаться на милость победителя. В противном случае он угрожал атаковать российские корабли прямо на рейде. В то же время командиры иностранных кораблей были уведомлены о начале войны Японии с Россией. От них потребовали покинуть рейд Чемульпо из-за угрозы

военных действий против русских кораблей. Руднев решительно отверг ультиматум японского адмирала и принял решение вместе с «Корейцем» с боем прорываться в Порт-Артур. «Варяг» и «Кореец» были подготовлены к бою: расставлены орудийные расчеты, к орудиям поданы снаряды, задраены водонепроницаемые перегородки. По русской традиции перед боем все моряки переоделись в чистую форму. Некоторые члены экипажей написали прощальные письма родным».



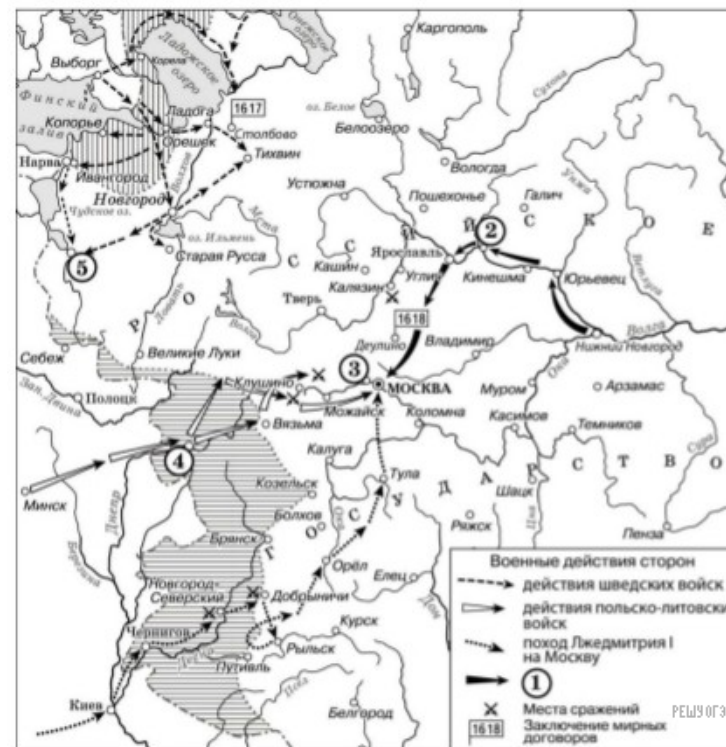
33. Прочитайте отрывок из сочинения историка и укажите цифру, обозначающую на схеме город, название которого дважды пропущено в данном отрывке.

«25 апреля 1709 г. неприятель начал осаду ____, через которую шли пути сообщения с Запорожьем, Крымом, Турцией и Польшей. Занятие ____ открыло бы путь к Москве. Вместе с тем неприятель, видимо, надеялся захватить здесь крупные запасы продовольствия. Немногочисленный гарнизон крепости под командой смелого полковника Келина героически сопротивлялся, отражая ожесточенные штурмы. и надолго приковал к себе основные силы врага. Это позволило русской армии беспрепятственно сосредоточиться поблизости от города».



34. Прочитайте отрывок из сочинения историка и укажите цифру, обозначающую место, где произошло сражение, о подготовке к которому идет речь.

«Еще до начала сражения русское командование совершило ряд ошибок, которые ухудшили боевой потенциал армии. Так, три русские армии были сильно растянуты по фронту, имея разную плотность боевых порядков. Алексей Куропаткин, опасаясь обходных действий противника, растянул войска, стараясь прикрыть как можно более широкий фронт. В результате армия отказывалась от сосредоточения, утратив ударную мощь и возможность для быстрого маневрирования и перегруппировки сил в случае необходимости. В тылу были оставлены крупные соединения, которые не приняли участие в сражении».



35. Прочитайте отрывок из сочинения историка и укажите цифру, обозначающую на схеме село, название которого дважды пропущено в данном отрывке.

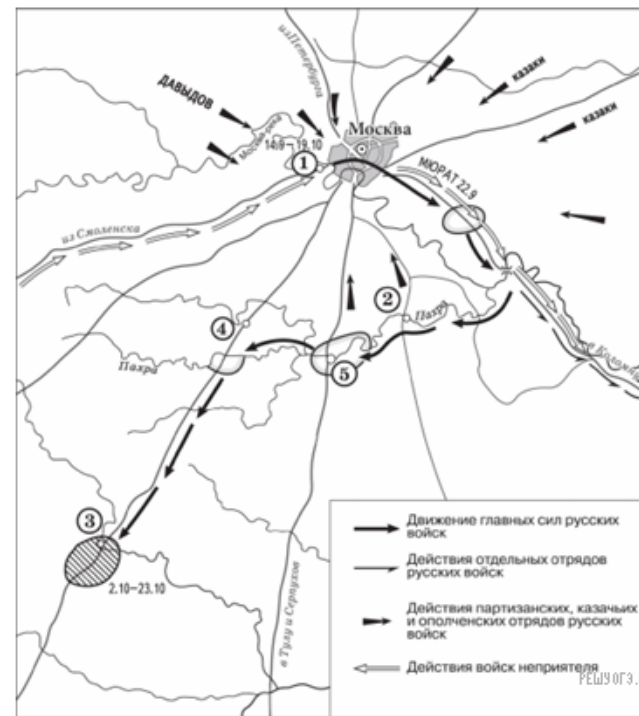
«Царское правительство послало против самозванца войско, но в его рядах скоро обнаружилась "шатость". Попытка задержать самозванца в его движении на Москву кончилась неудачей. Летом самозванец подошел к Москве и основал укрепленный лагерь в селе _____, в непосредственной близости от столицы. Местоположение _____ на высоком холме у реки Москвы обеспечивало лагерь самозванца безопасностью от внезапного нападения».



36. Прочитайте отрывок из сочинения историка и укажите цифру, обозначающую на схеме город, название которого пропущено в данном отрывке.

«Через три года после восшествия на престол Речи Посполитой талантливый полководец Стефан Баторий повел свои войска в наступление. Отбив у русских _____, вражеские войска захватили Великие Луки. Польские и литовские отряды разоряли Смоленщину, Северскую землю. Рязанщину, юго-запад Новгородчины, грабили русские земли вплоть до верховьев Волги. Однако наступление на Смоленск развить не удалось, и 100-тысячное польское войско отправилось на север к Пекову».

Рассмотрите схему и выполните задания 8–10.



37. Прочитайте отрывок из сочинения историка и укажите цифру, обозначающую на схеме населенный пункт, название которого дважды пропущено в данном отрывке.

«1(13) сентября русская армия подошла к Москве и расположилась на позиции, выбранной Беннигсеном. Правый фланг позиции упирался в изгиб Москвы-реки у деревни _____, центр позиции находился впереди села Троицкое, а левый фланг примыкал к Воробьевым горам. Позицию стали деятельно готовить к предстоящей битве. Но, по мнению Барклая де Толли и некоторых других генералов, позиция была крайне неудобной для сражения. Решимость Кутузова дать второе сражение «Великой армии» Наполеона была поколеблена. 1(13) сентября был собран военный совет, который был должен решить судьбу Москвы. В _____ собрались военный министр Барклай де Толли, начальник Главного штаба 1-й Западной армии Ермолов, генерал-квартирмейстер Толь, генералы Беннигсен, Дохтуров, Уваров, Остерман-Толстой, Коновницын, Раевский, Кайсаров. Кутузов поднял вопрос о том, стоит ли ожидать врага на позиции и дать ему сражение или отдать Москву без боя».